

## 4.4 対数関数

$a \neq 1$  を正の実数として  $f(x) = a^x$  を指数関数とする。指数関数の性質のところでも述べたように、 $f: \mathbb{R} \rightarrow (0, \infty)$  は単調増加かまたは単調減少であるので単射である。また、 $a > 1$  のときは  $\lim_{x \rightarrow \infty} a^x = \infty$ ,  $\lim_{x \rightarrow -\infty} a^x = 0$  であり、 $0 < a < 1$  のときは  $\lim_{x \rightarrow \infty} a^x = 0$ ,  $\lim_{x \rightarrow -\infty} a^x = \infty$  となり、 $(0, \infty)$  の全ての値をとるので全射である。よって、全単射である。

従って、逆関数  $f^{-1}: (0, \infty) \rightarrow \mathbb{R}$  が存在する。この関数を  $\log_a x$  と書き、 $a$  を底とする対数関数という。

$$y = a^x \iff x = \log_a y$$

対数関数に限らず逆関数として定義される関数において、上の四角の中の定義は「翻訳」のための「辞書」の様なものだと考えることができる。指数関数を日本語、対数関数を英語と考える。指数関数(日本語)に関しては指数法則等性質が分かっている。しかし対数関数(英語)に関する知識はないとする。指数法則等をこの「辞書」で「翻訳」すると対数の諸性質が得られる。

命題 4.16  $a, b$  は 1 でない正の実数とする。

- (1)  $\log_a 1 = 0$ ,  $\log_a a = 1$  が成り立つ。
- (2) (対数法則) 任意の正の実数  $p, q$  に対して次が成り立つ。

$$\log_a pq = \log_a p + \log_a q$$

- (3) 任意の正の実数  $p$  と任意の実数  $c$  に対して次が成り立つ。

$$\log_a p^c = c \log_a p$$

- (4) (底の変換) 任意の正の実数  $p$  に対して次が成り立つ。

$$\log_a p = \frac{\log_b p}{\log_b a}$$

証明 (1)  $a^0 = 1$  より、対数の定義を用いると  $0 = \log_a 1$  となる。  
 $a^1 = a$  より  $1 = \log_a a$  となる。

(2)  $a^x$  という関数は任意の正の実数とその値として持つから、任意の正の実数  $p, q$  に対してある実数  $s, t$  があって  $p = a^s$ ,  $q = a^t$  となる。このとき対数関数の定義から、 $s = \log_a p$ ,  $t = \log_a q$  である。

$r = a^{s+t}$  とおくと、指数法則から、 $r = a^{s+t} = a^s a^t = pq$  である。よって対数関数の定義から、 $s + t = \log_a r = \log_a pq$  であるから、

$$\log_a pq = \log_a r = s + t = \log_a p + \log_a q$$

となる。

(3)  $p = a^s$  とする。指数法則から  $p^c = (a^s)^c = a^{cs}$  であるから、 $\log_a p^c = cs = c \log_a p$  が成り立つ。

(4)  $b^u = p, b^v = a$  とすると  $\log_b p = u, \log_b a = v$  である。

$$p = b^u = b^{\frac{u}{v} \cdot v} = (b^v)^{\frac{u}{v}} = a^{\frac{u}{v}}$$

であるから、

$$\log_a p = \frac{u}{v} = \frac{\log_b p}{\log_b a}$$

となる。■

この命題から次がわかる。

系 4.17 (1)  $\log_a \frac{1}{p} = -\log_a p$  .

(2)  $\log_a \frac{p}{q} = \log_a p - \log_a q$

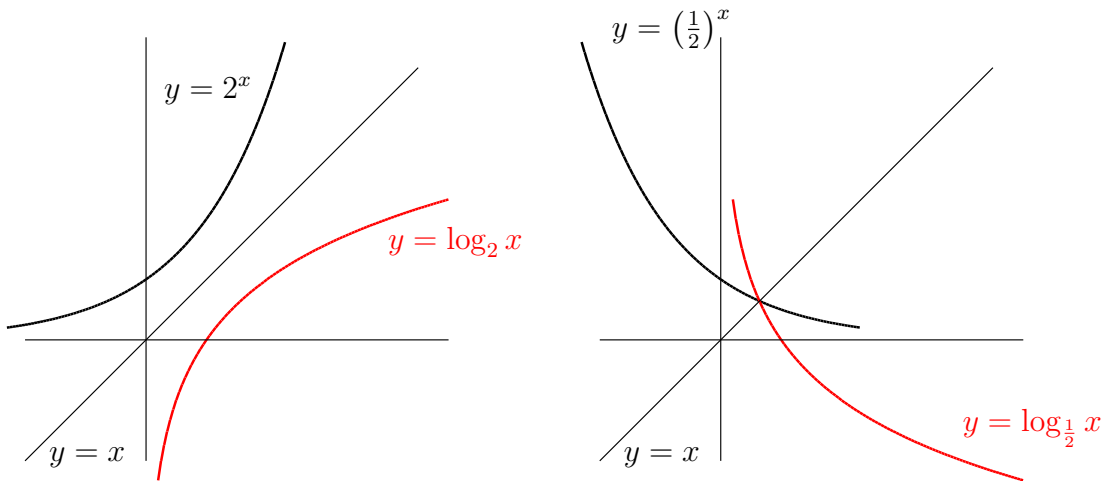
このように対数は、積の計算が和の計算に置き換わる、という画期的な性質を持っている。計算機などはなく、全てを手計算で行っていた時代では、これによる恩恵は、計り知れないものがある。対数は、スコットランドのジョン・ネイピア (1550–1617) とスイスのヨブスト・ビュルギ (1552–1652) によって同じ頃に発見されたと言われているが、世に知られて、広く使われるようになったのは、ネイピアによる著作「対数の驚くべき規則の叙述」(1614年) と「対数の驚くべき規則の構成」(1619) による。これらの本の中には、ネイピアが20年かけて計算した詳細な対数表が含まれており(もちろん全て手計算であるにもかかわらず、ほとんど誤りがなかった)、その後のあらゆる分野における数値計算の労力を劇的に軽減した。その意味でネイピアは、その後の科学技術の発展に多大な貢献をなしたと言える。(実際にはその後、ヘンリー・ブリッグズ、アドリアン・ヴラックらがネイピアとの議論に基づいて対数表を改良し、より詳細な表を作って1628年に発表した。その対数表は20世紀に至るまで、ほとんど全ての対数表の基礎となった。)

#### 演習問題 4.13

(1)  $a, b, c$  を正の実数とする。対数の定義のみを用いて  $a^b = c^{b \log_c a}$  を示せ。

(2)  $a, b, c$  を正の実数とする。対数の定義のみを用いて  $a^{\log_c b} = b^{\log_c a}$  を示せ。

対数関数のグラフ 対数関数は指数関数の逆関数なので、そのグラフは、対応する指数関数のグラフを  $y = x$  に関して対称に写せばよい。



#### 4.5 逆三角関数

三角関数  $\sin x, \cos x, \tan x$  の逆関数を考えてみよう。逆関数は、全単射になっていなければ定義できない。 $\sin x, \cos x$  は単射ではないのでこのままでは逆関数は定義できない。しかし、積分を扱うとき逆関数を考える必要があるので定義域を制限してでも逆関数を考える。

$\sin x$  や  $\cos x$  がその上で全単射になるような区間は無数にあり、そのうちのどれを採用したとしても、そこに限定した  $\sin x$  や  $\cos x$  は、当然、逆関数を持つ。そのような区間として、最も「標準的な」ものとしては、次のようなものが考えられる。

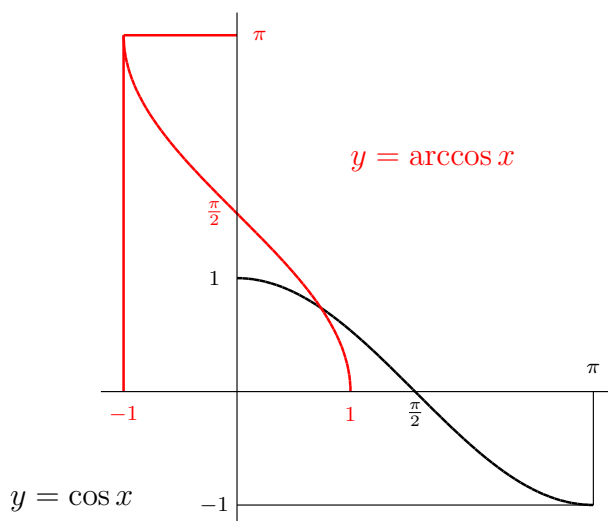
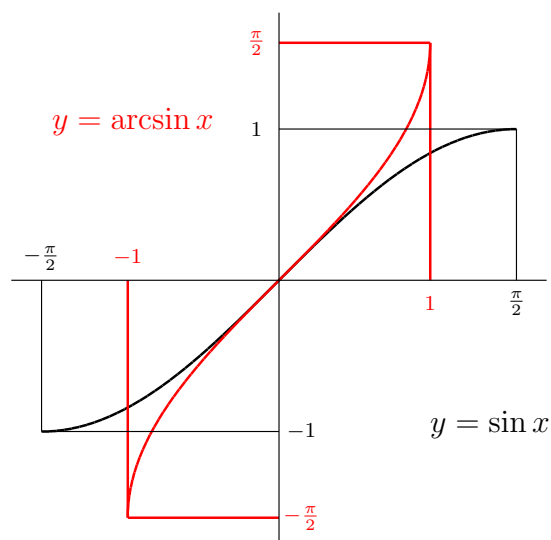
$f(x) = \sin x$  とする。この関数の定義域を  $\left[-\frac{\pi}{2}, \frac{\pi}{2}\right]$  に制限し、終域を  $[-1, 1]$  に制限した関数  $f$  (名前を変更する必要があるかもしれないが、ここでは混同して用いる) を

$$f: \left[-\frac{\pi}{2}, \frac{\pi}{2}\right] \rightarrow [-1, 1]$$

とすると、 $f$  は全単射になる。従って、逆関数

$$f^{-1}: [-1, 1] \rightarrow \left[-\frac{\pi}{2}, \frac{\pi}{2}\right]$$

が存在する。これを  $\arcsin x$  と書く(アークサインと読む)。 $\sin^{-1} x$  という記法も用いられるが、誤解を生みやすい記号なのでこの講義では採用しないことにする。



$g(x) = \cos x$  とする。この関数の定義域を  $[0, \pi]$  に制限し、終域を  $[-1, 1]$  に制限した関数  $g$  (名前を変更する必要があるかもしれないが、ここでは混同して用いる) を

$$g : [0, \pi] \longrightarrow [-1, 1]$$

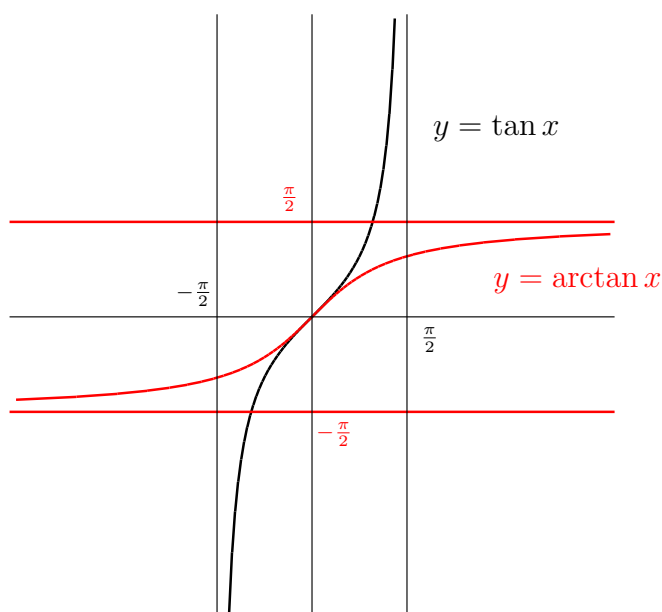
とすると、 $g$  は全単射になる。従って、逆関数

$$g^{-1} : [-1, 1] \longrightarrow [0, \pi]$$

が存在する。これを  $\arccos x$  と書く (アークコサインと読む)。 $\cos^{-1} x$  という記法も用いられるが、誤解を生みやすい記号なのでこの講義では採用しないことにする。

$\tan x$  は  $\left(-\frac{\pi}{2}, \frac{\pi}{2}\right)$  から  $\mathbb{R}$  への全単射であるから、 $\mathbb{R}$  から  $\left(-\frac{\pi}{2}, \frac{\pi}{2}\right)$  への逆関数が存在する。これを  $\arctan x$  と書き、アークタンジェント  $x$  と読む。 $\tan^{-1} x$  という記法も用いられるが、誤解を生みやすい記号なのでこの講義では採用しないことにする。

$\arctan x$  は実数全体で定義された関数なので、 $\frac{\pi}{2} + n\pi$  という点で値が定義されない  $\tan x$  と比べると、どちらかと言うと、より「まともな」関数である、という見方もできる。



もう一度逆三角関数の定義を書いておく。三角関数の性質を逆三角関数の性質に「翻訳」する重要な定義である。

$$\begin{aligned}
 y = \arcsin x &\iff x = \sin y && \left(-\frac{\pi}{2} \leq y \leq \frac{\pi}{2}\right) \\
 y = \arccos x &\iff x = \cos y && (0 \leq y \leq \pi) \\
 y = \arctan x &\iff x = \tan y && \left(-\frac{\pi}{2} < y < \frac{\pi}{2}\right)
 \end{aligned}$$

逆三角関数は三角関数の逆関数として定義された新しい関数なので、その性質はすべて三角関数から「翻訳」される。

逆三角関数は「人為的」につくった関数なので「自然な」対数関数とは異なり、右辺に括弧内の条件が付いていることに注意すること。これを無視して  $0 = \sin 2\pi$  から  $2\pi = \arcsin 0$  としてはいけない。

例えば  $\arcsin 0$  を求めてみよう。 $y = \arcsin 0$  とする。上の「翻訳」を用いると

$$y = \arcsin 0 \iff 0 = \sin y \quad \left(-\frac{\pi}{2} \leq y \leq \frac{\pi}{2}\right)$$

となる。 $-\frac{\pi}{2}$  と  $\frac{\pi}{2}$  の間で  $\sin$  が 0 になるのは  $y = 0$  しかないので  $y = 0$  が結論される。

次に  $\arcsin \frac{1}{10} = x, \arccos \frac{1}{10} = y$  のとき,  $x$  と  $y$  の関係を求める。

$$\arcsin \frac{1}{10} = x \iff \frac{1}{10} = \sin x \quad \left(-\frac{\pi}{2} \leq x \leq \frac{\pi}{2}\right)$$

$$\arccos \frac{1}{10} = y \iff \frac{1}{10} = \cos y \quad (0 \leq y \leq \pi)$$

「翻訳」は終わったのであとはすべて三角関数の性質から導く。

$$\sin\left(\frac{\pi}{2} - y\right) = \sin \frac{\pi}{2} \cos y - \cos \frac{\pi}{2} \sin y = \cos y$$

より  $\sin x = \frac{1}{10} = \sin\left(\frac{\pi}{2} - y\right)$  が成立する。 $0 \leq y \leq \pi$  であるが,  $\frac{1}{10} > 0$  より  $y \leq \frac{\pi}{2}$  が成立している。 $\left[-\frac{\pi}{2}, \frac{\pi}{2}\right]$  では  $\sin$  は単射なので  $x = \frac{\pi}{2} - y$  が成立する。

#### 演習問題 4.14

(1) 次の値を求めよ。

$$\arcsin \frac{1}{2}, \arccos \frac{1}{2}, \arctan 1, \arcsin \frac{1}{\sqrt{2}}, \arctan \sqrt{3}, \arctan \frac{1}{\sqrt{3}}$$

(2) 次の式を証明せよ。

$$1) \arccos \frac{4}{5} = \arcsin \frac{3}{5}$$

$$2) \arcsin \frac{3}{5} + \arcsin \frac{5}{13} = \arcsin \frac{56}{65}$$

$$3) \arccos \frac{24}{25} + \arccos \frac{12}{13} = \arcsin \frac{204}{325}$$

$$4) 4 \arctan \frac{1}{5} - \arctan \frac{1}{239} = \frac{\pi}{4}$$

(3) 次の式を簡単にせよ。

$$1) \arctan 2 + \arctan 3 \qquad 2) \arcsin \frac{5}{13} + \arcsin \frac{12}{13}$$

$$3) \arctan 3 + \arctan 4 \qquad 4) \arcsin \frac{2}{3} + \arcsin \frac{3}{4}$$

(4) 方程式  $\arccos \frac{1}{\sqrt{5}} = \arctan x$  をみたす  $x$  を求めよ。

(5)  $-1 \leq x \leq 1$  の時,  $\arcsin x + \arccos x = \frac{\pi}{2}$  を示せ。

(6)  $x > 0$  の時,  $\arctan x + \arctan \frac{1}{x} = \frac{\pi}{2}$  を示せ。

(7)  $\arctan x = \arcsin \frac{x}{\sqrt{1+x^2}}$  を示せ。